



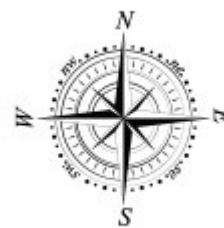
## II EDYCJA KONKURSU OGÓLNOPOLSKIEGO

### Z „GEOGRAFII”

skierowanego do uczniów klas 2 – 3 szkoły gimnazjalnej

dnia 17 listopada 2017r.

czas pracy 60 minut



Ilość punktów do zdobycia: maksymalnie 25. Powodzenia!

W pytaniach 1 - 5 zaznacz jedną prawidłową odpowiedź:

**Pytanie 1 (1 pkt)** Która z wymienionych nazw nie dotyczy rodzaju wiatru?

- A) cyklon      B) tsunami      C) bryza      D) monsun

**Pytanie 2 (1 pkt)** Literą **X** oznaczono na rysunku:

- A) Ziemię  
B) Merkurego  
C) Jowisza  
D) Plutona



**Pytanie 3 (1 pkt)** Określ, na którym z wymienionych obszarów trwa zima, gdy w Europie jest lato?

- A) na Syberii      B) w Indiach      C) w Kanadzie      D) w Australii

**Pytanie 4 (1 pkt)** W którym dniu roku promienie słoneczne padają na Saharze pod kątem prostym?

- A) 21 marca      B) 22 czerwca      C) 23 września      D) 22 grudnia

**Pytanie 5 (1 pkt)** Na którym kontynencie znajduje się miejsce o współrzędnych 50°N, 20°E?

- A) w Europie      B) w Afryce      C) na Antarktydzie      D) w Australii

**Pytanie 6 (2 pkt)** W każdym z zestawów skał podkreśl jednego intruza:

- A) węgiel kamienny, ropa naftowa, wapień, bazalt  
B) gips, piasek, żwir, less

**Pytanie 7 (2 pkt)** Nazwij typ wybrzeża widoczny na mapie.




**Pytanie 8 (2 pkt)** Podaj nazwę widocznej na zdjęciu formy krasowej.

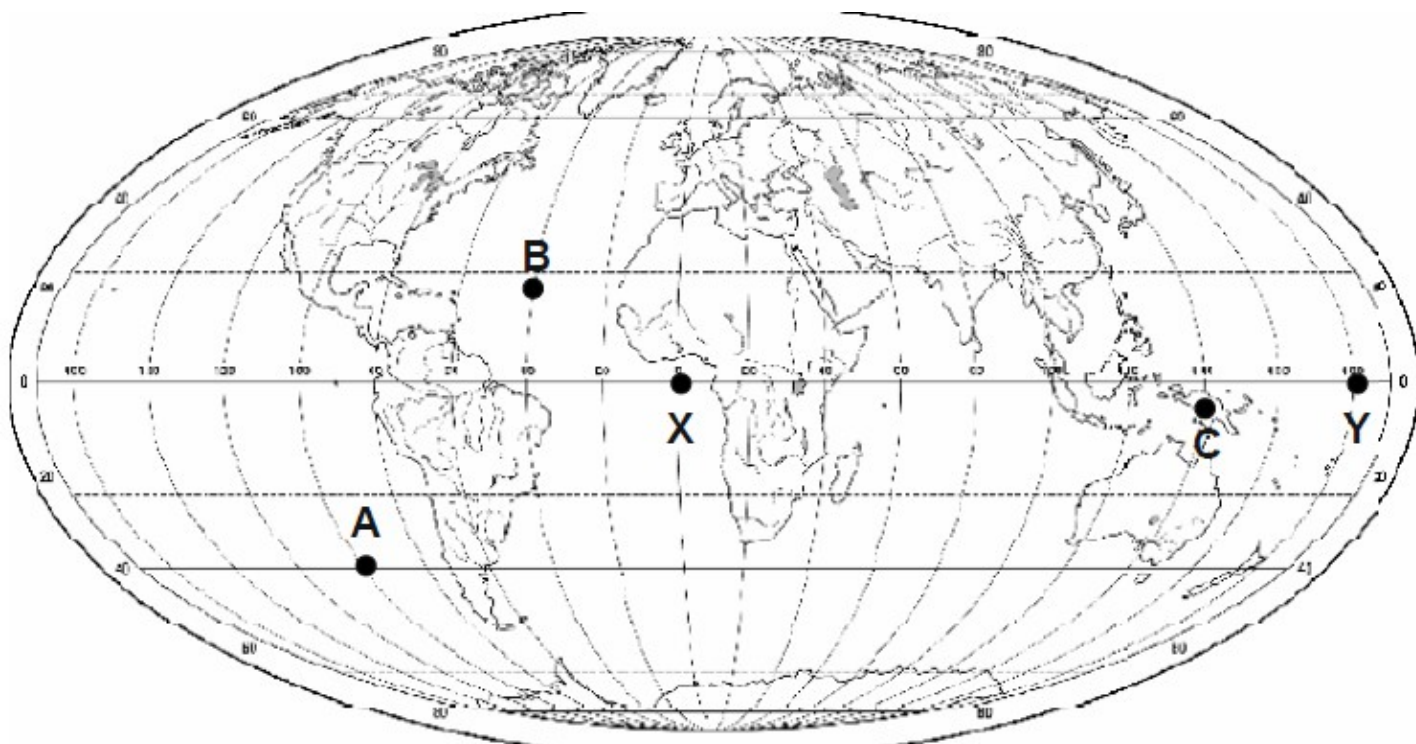


**Pytanie 9 (2 pkt)** Oblicz odległość między dwoma wyspami, które na mapie w skali 1: 250 000 położone są 4 cm od siebie.

**Pytanie 10 (2 pkt)** Podaj nazwę procesu rzeźbotwórczego, który prowadzi do powstania formy terenu przedstawionej na zdjęciu.



**MAPA DO PYTAŃ 11 – 15**



**Pytanie 11 (2 pkt)** Oblicz w kilometrach odległość między punktami X i Y. Wynik zaokrąglij do całości. Możesz się pomylić o 50 km.

**Pytanie 12 (2 pkt)** W którym z punktów zaznaczonych na mapie promienie słoneczne nigdy nie padają pod kątem prostym?

**Pytanie 13 (2 pkt)** Podaj nazwę wyspy oznaczonej literą C.

**Pytanie 14 (2 pkt)** Podpisz na mapce literą P Zatokę Perską.

**Pytanie 15 (2 pkt)** W którym z punktów ( A czy B ) wcześniej wschodzi słońce? Oblicz, o ile?