



II EDYCJA KONKURSU OGÓLNOPOLSKIEGO Z „GEOGRAFII”

skierowanego do uczniów klasy 7 szkoły podstawowej

dnia 17 listopada 2017r.

czas pracy 60 minut

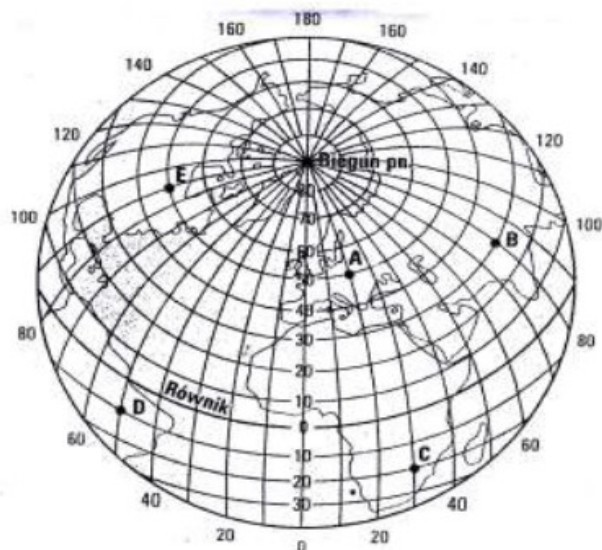


Ilość punktów do zdobycia: maksymalnie 25. Powodzenia!

W pytaniach 1 - 5 zaznacz jedną prawidłową odpowiedź:

Pytanie 1 (1 pkt) Które wartości współrzędnych geograficznych określają położenie punktu E?

- A) 90°N, 50°E
- B) 50°S, 90°W
- C) 90°N, 50°W
- D) 50°N, 90°W



Pytanie 2 (1 pkt) Której skali liczbowej odpowiada podana skala mianowana 1cm – 25 km?

- A) 1: 25 000
- B) 1: 250 000
- C) 1: 2 500 000
- D) 1 : 25 000 000

Pytanie 3 (1 pkt) Ile wynosi odległość z Warszawy do Łodzi (120 km w rzeczywistości) na mapie w skali 1:600 000?

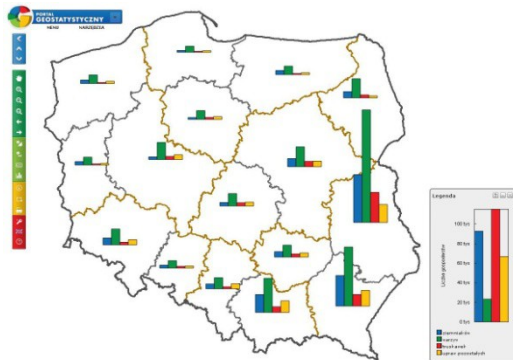
- A) 20 cm
- B) 7,2 cm
- C) 72 cm
- D) 2 cm

Pytanie 4 (1 pkt) Jak nazywają się linie łączące na mapach klimatycznych punkty o tej samej temperaturze?

- A) termolinie
- B) izotermi
- C) izocelsjusze
- D) poziomice

Pytanie 5 (1 pkt) Jak nazywa się metoda przedstawiająca strukturę upraw w Polsce pokazana poniżej?

- A) sygnaturowa
- B) kartogram
- C) diagram
- D) kartodiagram



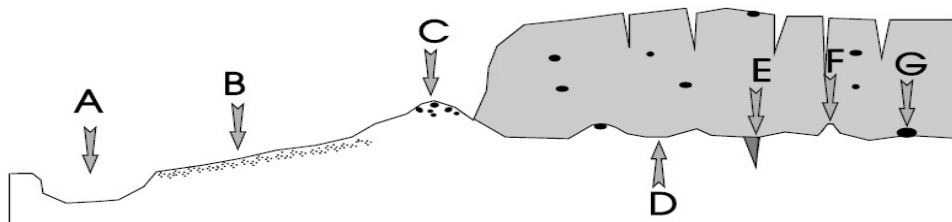
Pytanie 6 (2 pkt) Jak nazywa się miejscowość położona w matematycznym środku Polski, który ma współrzędne: 52°04'N 19°28'E?

Pytanie 7 (2 pkt) Oblicz różnicę czasu słonecznego między skrajnymi punktami terytorium Polski, których współrzędne wynoszą: 14°E na zachodzie i 24°E na wschodzie.

Pytanie 8 (2 pkt) W podanym zdaniu skreśl niewłaściwe nazwy:

„Najmłodsze góry w Polsce to **Karpaty / Sudety**, które powstały w wyniku orogenezy **alpejskiej / kaledońskiej**”.

Pytanie 9 (2 pkt) Jak nazywa się forma polodowcowa podpisana na rysunku literą A?



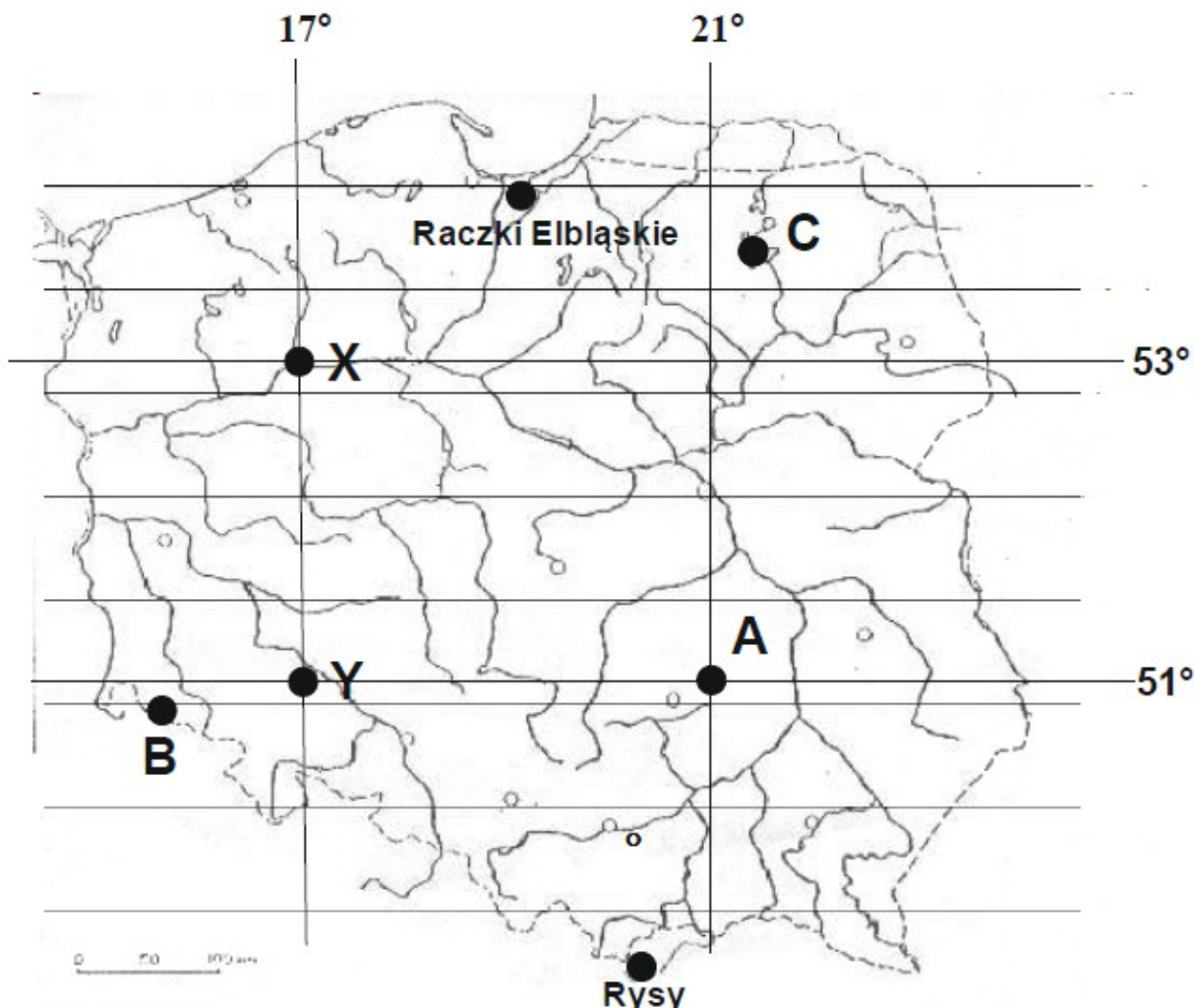
Pytanie 10 (2 pkt) Podaj nazwę masy powietrza o podanych cechach:

napływa nad Polskę najczęściej

jest wilgotna więc często przynosi opady

jej napływ zimą powoduje odwilż

MAPA DO PYTAŃ 11-15



Pytanie 11 (2 pkt) Określ współrzędne geograficzne punktu A.

Pytanie 12 (2 pkt) Podaj nazwę szczytu w Sudetach oznaczonego literą B. Ma on 1602 m n.p.m.

Pytanie 13 (2 pkt) Podaj z dokładnością 1m różnicę wysokości między najwyżej i najniżej położonymi punktami na terytorium Polski. Są one zaznaczone i podpisane na mapce.

Pytanie 14 (2 pkt) Podaj nazwę jeziora morenowego zaznaczonego na mapie literą C.

Pytanie 15 (2 pkt) Oblicz i podaj w kilometrach odległość z punktu X do Y (z dokładnością do 1 km).