



II EDYCJA KONKURSU OGÓLNOPOLSKIEGO Z „PRZYRODY”

skierowanego do uczniów klas 4 – 6 szkoły podstawowej

dnia 17 listopada 2017r.

czas pracy 60 minut



Ilość punktów do zdobycia: maksymalnie 25. Powodzenia!

W pytaniach 1 - 5 zaznacz jedną prawidłową odpowiedź:

Pytanie 1 (1 pkt) Słońce latem zachodzi na północnym zachodzie, który oznaczamy skrótem?

- A) NE B) NW C) SE D) SW

Pytanie 2 (1 pkt) Który ze składników pogody mierzony jest przy użyciu higrometru?

- A) wilgotność powietrza B) ciśnienie atmosferyczne C) opady D) zachmurzenie

Pytanie 3 (1 pkt) Zdjęcie przedstawia zjawisko określane nazwą:

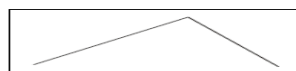
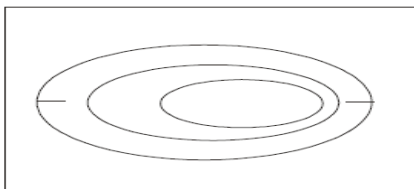
- A) szron
B) szadź
C) gołoledź
D) rosa?



Pytanie 4 (1 pkt) Skali mianowanej 1 cm – 25 km odpowiada skala liczbowa:

- A) 1 : 2 500 000 B) 1 : 2 500 C) 1 : 25 000 D) 1 : 250 000

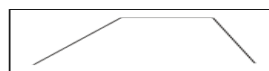
Pytanie 5 (1 pkt) Który z zamieszczonych profili przedstawia formę terenu narysowaną za pomocą poziomic?



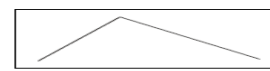
A)



B)



C)



D)

Pytanie 6 (2 pkt) W którym kierunku biegnie dziewczyna przedstawiona na rysunku?

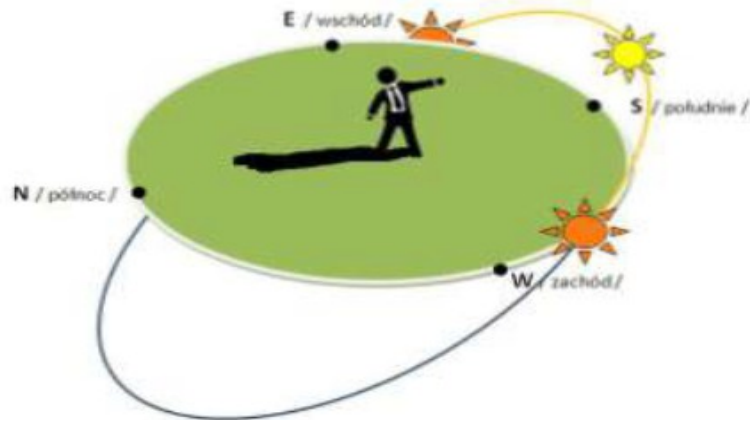


Pytanie 7 (2 pkt) W którym kierunku porusza się samolot lecący z Australii do Afryki wzdłuż zwrótnika Koziorożca?

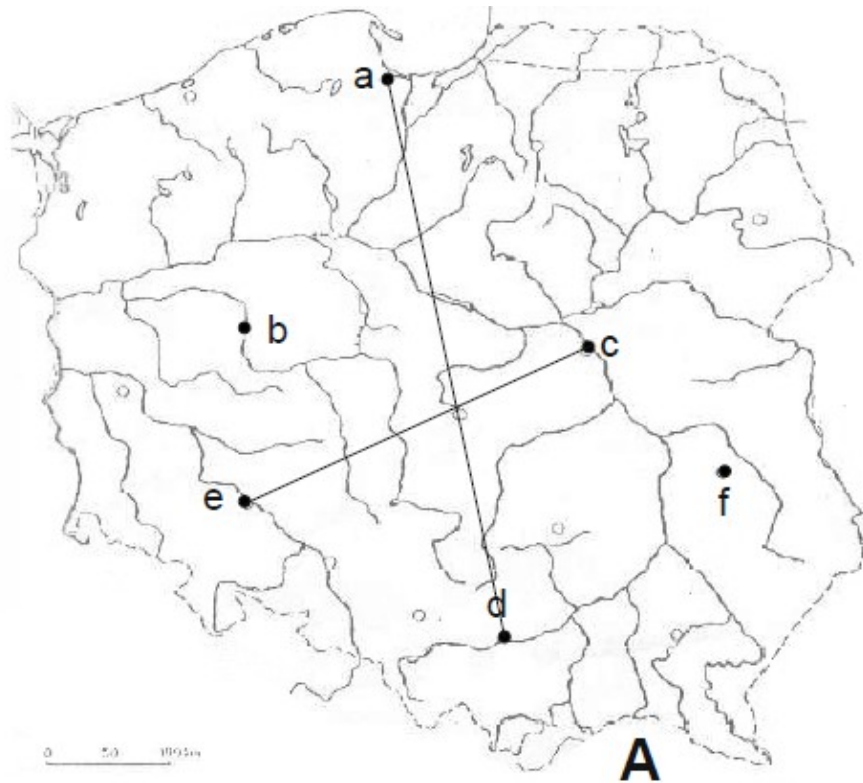
Pytanie 8 (2 pkt) W którą stronę musi wyruszyć polarnik, który po zdobyciu bieguna południowego chce wrócić do rodzinnej Australii?

Pytanie 9 (2 pkt) O ile kilometrów oddalone są od siebie dwa miasta, które na mapie w skali 1 :70 000 dzieli w linii prostej 6 cm?

Pytanie 10 (2 pkt) W którym miesiącu obserwator widzi przedstawioną na rysunku pozorną wędrówkę Słońca?



MAPA POLSKI DO PYTAŃ 11 - 15



Pytanie 11 (2 pkt) Podaj nazwę państwa sąsiadującego z Polską, oznaczonego na mapie literą A.

Pytanie 12 (2 pkt) W którym spośród zaznaczonych na mapie literami miast najwcześniej wschodzi Słońce? Podaj jego nazwę.

Pytanie 13 (2 pkt) Podaj nazwę zaznaczonego na mapie miasta, przez które przepływa rzeka Warta.

Pytanie 14 (2 pkt) Podaj nazwę miasta położonego na przecięciu odcinków poprowadzonych między miastami **ad** oraz **ce**.

Pytanie 15 (2 pkt) Najbliżej którego spośród zaznaczonych na mapie miast znajdują się Sudety? Podaj jego nazwę.