



**KONKURS OGÓLNOPOLSKI Z „PRZYRODY”**  
**skierowany do uczniów klas 4 – 6 szkół podstawowych**

Dnia 15 marca 2017r.

Czas pracy 60 minut.

Ilość punktów do zdobycia: maksymalnie 25. Powodzenia !!!

**Zadanie 1 (1 pkt)**

Który kierunek przeciwny jest do południowo – wschodniego?

- A. SE      B. NE      C. SW      D. NW

**Zadanie 2 (1 pkt)**

Który ze składników pogody mierzony jest w hPa?

- A. wilgotność powietrza      B. ciśnienie atmosferyczne      C. opady      D. zachmurzenie

**Zadanie 3 (1 pkt)**

Zdjęcie przedstawia zjawisko określane nazwą:



- A. szron      B. szadź      C. gołoledź      D. rosa

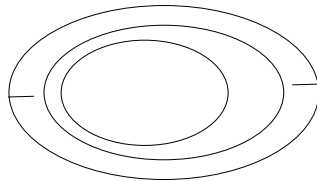
**Zadanie 4 (1 pkt)**

Skali liczbowej 1: 5 000 000 odpowiada skala mianowana:

- A. 1cm – 500 m      B. 1 cm – 5 km      C. 1 cm – 50 km      D. 1 cm – 500 km

**Zadanie 5 (1 pkt)**

Rysunek poziomicowy przedstawia formę terenu o nazwie:



- A. pagórek      B. wzgórze      C. dolina      D. kotlina

**Zadanie 6 (2 pkt)**

W którym kierunku wędruje człowiek przedstawiony na rysunku?



**Zadanie 7 (2 pkt)**

W którym kierunku porusza się samolot lecący z Polski do Kanady wzdłuż 50 równoleżnika?

**Zadanie 8 (2 pkt)**

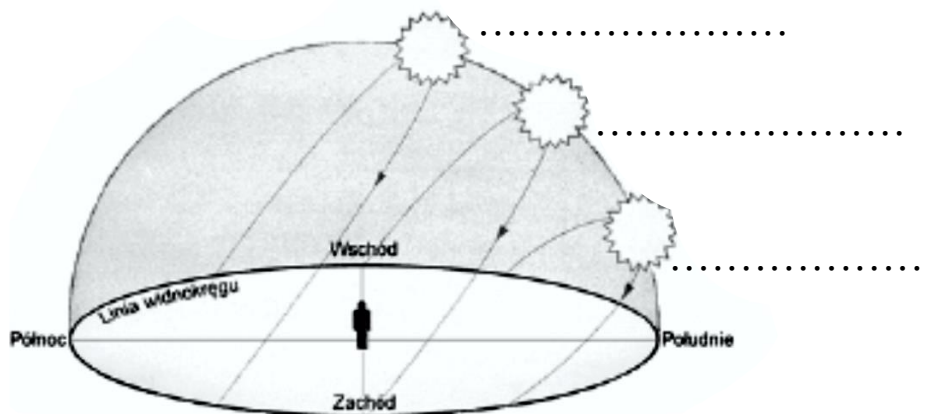
Jeśli mapa została poprawnie zorientowana to z której strony osoby czytającej mapę znajduje się południe?

**Zadanie 9 (2 pkt)**

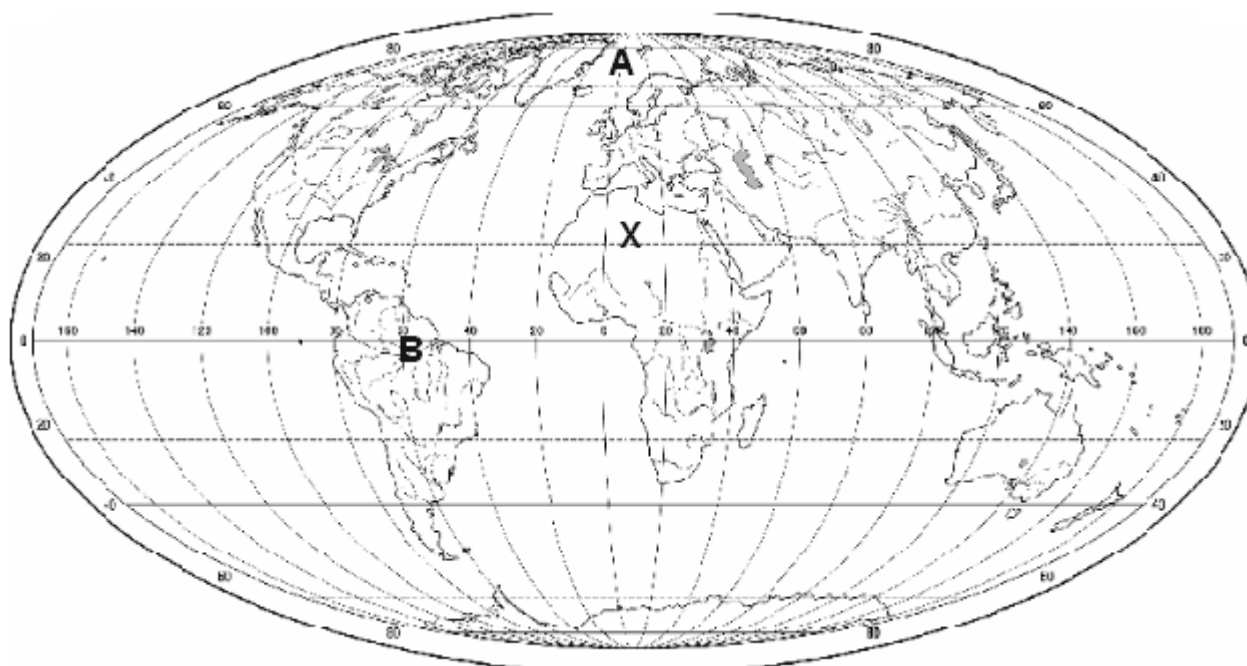
O ile kilometrów oddalone są od siebie dwa miasta, które na mapie w skali 1 :25 000 dzieli w linii prostej 12 cm?

**Zadanie 10 (2 pkt)**

Na zamieszczonym rysunku oznacz literą M miejsce górowania Słońca w marcu oraz literą W miejsce w którym góruje ono we wrześniu.



**MAPA ŚWIATA DO ZADAŃ 11-15**



**Zadanie 11 (2 pkt)**

Podaj nazwę oceanu oznaczonego na mapie literą A.

**Zadanie 12 (2 pkt)**

Podaj nazwę rzeki niosącej do oceanu największą ilość wody i oznaczonej na mapie literą B.

**Zadanie 13 (2 pkt)**

Obszarem o bardzo niewielkich opadach deszczu jest pustynia oznaczona na mapie literą X. Podaj jej nazwę.

**Zadanie 14 (2 pkt)**

Podaj nazwę kontynentu prawie w całości pokrytego lodem i oznacz go na mapie literą D.

**Zadanie 15 (2 pkt)**

Podaj wartość południka spośród tych narysowanych na mapie, który przebiega przez Polskę.