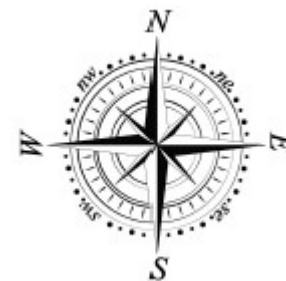


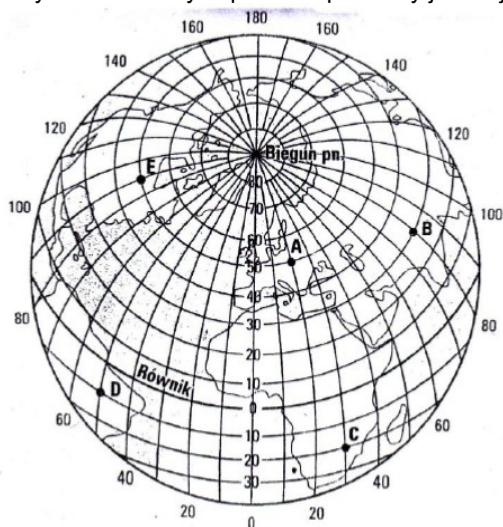
## IV EDYCJA KONKURSU OGÓLNOPOLSKIEGO Z „GEOGRAFII”

skierowanego do uczniów klas 7 - 8 szkoły podstawowej  
dnia 16 listopada 2018r.  
czas pracy 60 minut



Ilość punktów do zdobycia: maksymalnie 25. Powodzenia!

**Pytanie 1 (1pkt)** Który z zaznaczonych punktów położony jest najbliżej bieguna południowego?



- A) A
- B) B
- C) C
- D) D

**Pytanie 2 (1pkt)** Który z zaznaczonych punktów posiada współrzędne geograficzne: 50°N, 20°E?

- A) A
- B) B
- C) C
- D) D

**Pytanie 3 (1pkt)** Rzeka Nysa Łużycka stanowi granicę Polski z:

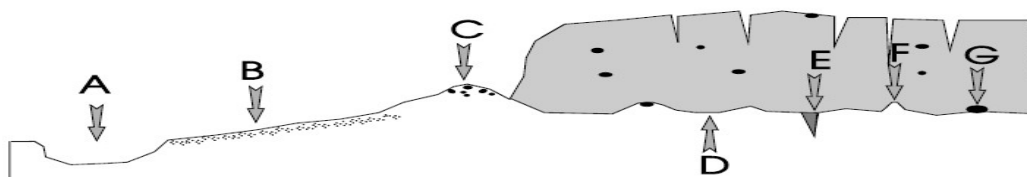
- A) Litwą
- B) Rosją
- C) Niemcami
- D) Białorusią

**Pytanie 4 (1pkt)** Najstarsze drzewo rosnące w Polsce to widoczny na zdjęciu:



- A) cis w Henrykowie
- B) dąb Bartek
- C) dąb Lech w Rogalinie
- D) sekwoja w Tyńcu

**Pytanie 5 (1pkt)** Forma polodowcowa oznaczona na rysunku literą F to:



- A) pradolina
- B) oz
- C) morena czołowa
- D) sandr


**Pytanie 6 (2pkt)** Pokłady soli w Polsce eksploatowane są obecnie:

- A) na Dolnym Śląsku
- B) na Górnym Śląsku
- C) w Wieliczce
- D) na Kujawach

**Pytanie 7 (2pkt)** Oblicz różnicę czasu słonecznego między skrajnymi punktami Polski leżącymi na zachodzie (14°E) i wschodzie (24°E).

**Pytanie 8 (2pkt)** Oblicz rzeczywistą odległość między Łodzią a Gdańskiem wiedząc, że na mapie w skali 1: 3 000 000 dzieli te miasta 11 cm.

**Pytanie 9 (2pkt)** Oblicz, ile procent drzew w polskich lasach stanowią gatunki liściaste?



**Pytanie 10 (2pkt)** Podaj nazwę przedstawionego na zdjęciu rzadko spotykanego ssaka, żyjącego na wschodzie Polski.



#### MAPA DO PYTAŃ 11 - 14

**Pytanie 11 (2pkt)**

Podpisz na mapie nazwę województwa leżącego przy granicy z Rosją.

**Pytanie 12 (2pkt)** Podaj nazwy stolic wymienionych województw.

A) podkarpackie      B) podlaskie

**Pytanie 13 (2pkt)**

Podpisz na mapie stolicę najbardziej zalesionego województwa.

**Pytanie 14 (2pkt)**

W każdym z zestawów miast znajdź intruza:

A) Opole, Zabrze, Gliwice, Sosnowiec

B) Szczecin, Lublin, Radom, Olsztyn

**Pytanie 15 (2pkt)**

Którą z liczb oznaczono kobiety urodzone podczas II wojny światowej demograficznego?

