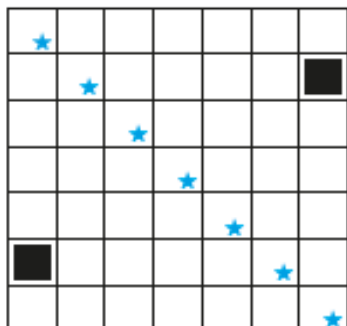


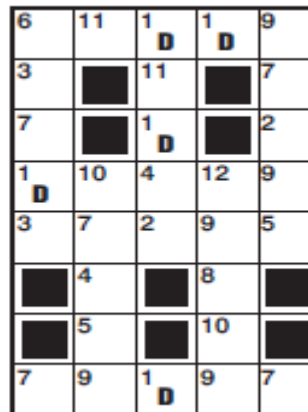
Zadanie 5 (2pkt) PARY. Do poziomych rzędów diagramu należy wpisać 7 podanych imion w takiej kolejności, aby na przekątnej odczytać imię partnera Sandry.

URSZULA - SEWERYN
 TERESA - MARIUSZ
 TATIANA - ANDRZEJ
 SANDRA - ?




Zadanie 6 (2pkt) SZYFROKRZYŻÓWKA. Używając 12 liter występujących nad diagramem ułóż krzyżówkę, w której występują rzeczowniki w mianowniku w liczbie pojedynczej. W polach oznaczonych tymi samymi liczbami powinny znaleźć się jednakowe litery.

A, B, D, E, I, K, L, N, O, R, T, U



Zadanie 7 (2pkt) AFRYKA. Do diagramu należy wpisać nazwy państw zaznaczonych na mapie. Litery z pól od 1 do 5 utworzą rozwiązanie.



Zadanie 8 (2pkt) BIAŁE KRZYŻÓWKI. Każdy z diagramów uzupełnij literami, które składają się na słowo POLONISTA – tak, aby w każdym diagramie powstały krzyżujące się ze sobą wyrazy 5 – literowe. Pierwsze i ostatnie litery wyrazów 5 – literowych są już w diagramie podane. Litery w polach z kropkami czytane wierszami utworzą rozwiązanie.

