



**V EDYCJA KONKURSU OGÓLNOPOLSKIEGO  
Z „HISTORII”  
PT. „POWSTANIA ŚLĄSKIE”**

skierowanego do uczniów klasy 3 szkoły gimnazjalnej  
dnia 27 marca 2019r.  
czas pracy 60 minut



Ilość punktów do zdobycia: maksymalnie 25. Powodzenia!

W pytaniach 1 - 5 zaznacz jedną prawidłową odpowiedź:

<p><b>Pytanie 1 (1pkt)</b> Przywódcą I powstania śląskiego był:</p> <p>A) Józef Lompa B) Wojciech Korfanty C) Karol Miarka D) Alfons Zgrzebniok</p>	<p><b>Pytanie 2 (1pkt)</b> Twórca śląskiej POW i inicjator I powstania śląskiego to:</p> <p>A) Karol Miarka B) Wojciech Korfanty C) Maksymilian Iksal D) Józef Grzegorzak</p>								
<p><b>Pytanie 3 (1pkt)</b> Największą bitwą podczas III powstania śląskiego była bitwa w rejonie:</p> <p>A) Jasnej Góry B) Góry św. Anny C) Gliwic D) Pszczyny</p>	<p><b>Pytanie 4 (1pkt)</b> Największy pomnik powstańców śląskich jest w:</p> <p>A) Gliwicach B) Rudzie Śląskiej C) Bytomiu D) Katowicach</p>								
<p><b>Pytanie 5 (1pkt)</b> Linia Korfantego to:</p> <p>A) Linia podział Górnego Śląska B) Linia zaopatrzeniowa materiałów wojskowych dla powstańców C) Linia obrony pod Górą Św. Anny D) Linia przemieszczania się oddziałów powstańczych</p>	<p><b>Pytanie 6 (2pkt)</b> Do podanych wydarzeń dopisz odpowiednie daty roczne.</p> <table border="1"> <tr> <td>1) Masakra w kopalni „Mysłowice”</td> <td></td> </tr> <tr> <td>2) Plebiscyt na Górnym Śląsku</td> <td></td> </tr> <tr> <td>3) Konferencja w Genewie w sprawie Śląska</td> <td></td> </tr> <tr> <td>4) III powstanie śląskie</td> <td></td> </tr> </table>	1) Masakra w kopalni „Mysłowice”		2) Plebiscyt na Górnym Śląsku		3) Konferencja w Genewie w sprawie Śląska		4) III powstanie śląskie	
1) Masakra w kopalni „Mysłowice”									
2) Plebiscyt na Górnym Śląsku									
3) Konferencja w Genewie w sprawie Śląska									
4) III powstanie śląskie									

**Pytanie 7 (2pkt)**

Przeczytaj uważnie fragment regulaminu plebiscytu na Górnym Śląsku i odpowiedz na pytania.

*Artykuł 1 Prawo głosowania*

Prawo głosowania przy plebiscycie na Górnym Śląsku przysługuje każdej osobie, bez różnicy płci, która czyni zdolność warunkom następującym.

A) Ma ukończone 20 lat w dniu 1 stycznia 1921 roku. B) Urodziła się na obszarze podlegającym plebiscytowi albo ma tamże swoje miejsce zamieszkania od 1 stycznia 1904 roku lub od czasu dłuższego albo też stąd została wydalona przez władze niemieckie i nie zachowała tam swojego miejsca zamieszkania.

- A) Czy prawo głosu w plebiscycie miały kobiety?  
B) Jakie trzeba było spełnić warunki, aby wziąć udział w plebiscycie?  
C) Czy w plebiscycie mogli brać udział obywatele innych krajów niż Polska i Niemcy?

**Pytanie 8 (2pkt)**


Do przedstawionych zdjęć pomników dopisz miejscowości, w których one się znajdują. Wybierz z pośród podanych nazw miejscowości:

Katowice

Zdzieszowice

Góra Św. Anny

Tychy



A)



B)



C)

**Pytanie 9 (2pkt)**

Zaznacz prawidłowy ciąg chronologiczny dotyczący powstań śląskich:

A. masakra w Mysłowicach → walki o Górę św. Anny → II powstanie śląskie → I powstanie śląskie

B. masakra w Mysłowicach → I powstanie śląskie → II powstanie śląskie → walki o Górę św. Anny

C. I powstanie śląskie → II powstanie śląskie → walki o Górę św. Anny → masakra w Mysłowicach

D. masakra w Mysłowicach → I powstanie śląskie → walki o Górę św. Anny → II powstanie śląskie

**Pytanie 10 (2pkt)**

Przyporządkuj do symboli literowych ( A-C), którymi oznaczono kolejne powstania odpowiednie cyfry (1-4), którymi oznaczono wydarzenia z nimi związane.

A. I powstanie śląskie	1) akcja „Mosty”
B. II powstanie śląskie	2) masakra w Mysłowicach
C. III powstanie śląskie	3) powołanie Policji Plebiscytowej
	4) strajk szkolny




**Pytanie 11 (2pkt)**

Uzupełnij tekst wpisując odpowiednie nazwy Państw.

Plebiscyt na Górnym Śląsku wygrali Niemcy, którzy..... określali jako „kraj sezonowy”. Za przyłączeniem do ..... głosowało około 700 tys. ludzi, a za przyłączeniem do ..... niecałe 500 tys. W tej sytuacji ..... popierane przez dyplomację ..... i ..... zażądały całego obszaru Górnego Śląska. .... natomiast popierana przez ..... dążyła do podziału Śląska na podstawie wyników plebiscytu.

**Pytanie 12 (2pkt)**

Do podanych portretów przyporządkuj odpowiednie imię i nazwisko postaci związanych z powstaniami śląskimi.

			Alfons Zgrzebniok Józef Rymer Wojciech Korfanty
A)	B)	C)	

**Pytanie 13 (2pkt)**

Spośród wymienionych miast Śląskich podkreśl (4) te, które pozostały po stronie polskiej po ostatecznym ustaleniu granicy.

Pszczyna Olesno Rybnik Katowice Bytom Lubliniec Gliwice Racibórz

**Pytanie 14 (2pkt)**

Rozstrzygnij które zdania są prawdziwe, a które fałszywe. W tabeli obok każdego wpis odpowiednio: P (prawda), F (fałsz).

A) Akcja „Mosty” miała na celu wysadzić w powietrze mosty na Nysie.	
B) Plebiscyt przyznał stronie polskiej większą część Śląska.	
C) II powstanie śląskie odbyło się w sierpniu.	
D) Bitwa o Górę Św. Anny była bitwą wygraną przez Polaków.	

**Pytanie 15 (2pkt)**

Uzupełnij tekst:

W ..... roku podpisano w ..... konwencję w sprawie Śląska. Według ustaleń obszar przyznany Polsce powiększony został do około 1/3 spornego terytorium. Konwencja i podział pod względem gospodarczym była korzystna dla ..... Jeśli chodzi o istniejące na nim obiekty przemysłowe. Polsce przypadło ..... % hutnictwa i 76% .....