



**V EDYCJA KONKURSU OGÓLNOPOLSKIEGO
Z „HISTORII”
PT. „POWSTANIA ŚLĄSKIE”**

skierowanego do uczniów klas 4 – 8 szkoły podstawowej
dnia 27 marca 2019r.
czas pracy 60 minut



Ilość punktów do zdobycia: maksymalnie 25. Powodzenia!

W pytaniach 1 - 5 zaznacz jedną prawidłową odpowiedź:

<p>Pytanie 1 (1pkt) Przywódcą I powstania śląskiego był:</p> <p>A) Józef Lompa B) Wojciech Korfanty C) Karol Miarka D) Alfons Zgrzebniok</p>	<p>Pytanie 2 (1pkt) Twórca śląskiej POW i inicjator I powstania śląskiego to:</p> <p>A) Karol Miarka B) Wojciech Korfanty C) Maksymilian Iksal D) Józef Grzegorzak</p>								
<p>Pytanie 3 (1pkt) Największą bitwą podczas III powstania śląskiego była bitwa w rejonie:</p> <p>A) Jasnej Góry B) Góry św. Anny C) Gliwic D) Pszczyny</p>	<p>Pytanie 4 (1pkt) Największy pomnik powstańców śląskich jest w:</p> <p>A) Gliwicach B) Rudzie Śląskiej C) Bytomiu D) Katowicach</p>								
<p>Pytanie 5 (1pkt) Linia Korfantego to:</p> <p>A) Linia podział Górnego Śląska B) Linia zaopatrzeniowa materiałów wojskowych dla powstańców C) Linia obrony pod Górą Św. Anny D) Linia przemieszczania się oddziałów powstańczych</p>	<p>Pytanie 6 (2pkt) Do podanych wydarzeń dopisz odpowiednie daty roczne.</p> <table border="1"><tr><td>1) Masakra w kopalni „Mysłowice”</td><td></td></tr><tr><td>2) Plebiscyt na Górnym Śląsku</td><td></td></tr><tr><td>3) Konferencja w Genewie w sprawie Śląska</td><td></td></tr><tr><td>4) III powstanie śląskie</td><td></td></tr></table>	1) Masakra w kopalni „Mysłowice”		2) Plebiscyt na Górnym Śląsku		3) Konferencja w Genewie w sprawie Śląska		4) III powstanie śląskie	
1) Masakra w kopalni „Mysłowice”									
2) Plebiscyt na Górnym Śląsku									
3) Konferencja w Genewie w sprawie Śląska									
4) III powstanie śląskie									

<p>Pytanie 7 (2pkt) Przeczytaj uważnie fragment regulaminu plebiscytu na Górnym Śląsku i odpowiedz na pytania.</p> <p><i>Artykuł 1 Prawo głosowania</i> Prawo głosowania przy plebiscycie na Górnym Śląsku przysługuje każdej osobie, bez różnicy płci, która czyni zdolność warunkom następującym. A) Ma ukończone 20 lat w dniu 1 stycznia 1921 roku; B) Urodziła się na obszarze podlegającym plebiscytowi albo ma tamże swoje miejsce zamieszkania od 1 stycznia 1904 roku lub od czasu dłuższego albo też stąd została wydalona przez władze niemieckie i nie zachowała tam swojego miejsca zamieszkania.</p> <p>A) Czy prawo głosu w plebiscycie miały kobiety? B) Jakie trzeba było spełnić warunki, aby wziąć udział w plebiscycie? C) Czy w plebiscycie mogli brać udział obywatele innych krajów niż Polska i Niemcy?</p>
--

<p>Pytanie 8 (2pkt) Do przedstawionych zdjęć pomników dopisz miejscowości, w których one się znajdują. Wybierz z pośród podanych nazw miejscowości: Katowice Dzieszowice Góra Św. Anny Tychy</p>
--

A)	B)	C)

Pytanie 9 (2pkt)

Zaznacz prawidłowy ciąg chronologiczny dotyczący powstań śląskich:

A. masakra w Mysłowicach → walki o Górę św. Anny → II powstanie śląskie → I powstanie śląskie

B. masakra w Mysłowicach → I powstanie śląskie → II powstanie śląskie → walki o Górę św. Anny

C. I powstanie śląskie → II powstanie śląskie → walki o Górę św. Anny → masakra w Mysłowicach

D. masakra w Mysłowicach → I powstanie śląskie → walki o Górę św. Anny → II powstanie śląskie

Pytanie 10 (2pkt)

Przyporządkuj do symboli literowych (A-C), którymi oznaczono kolejne powstania odpowiednie cyfry (1-4), którymi oznaczono wydarzenia z nimi związane.

A. I powstanie śląskie	1) akcja „Mosty”
B. II powstanie śląskie	2) masakra w Mysłowicach
C. III powstanie śląskie	3) powołanie Policji Plebiscytowej
	4) strajk szkolny




Pytanie 11 (2pkt)

Uzupełnij tekst wpisując odpowiednie nazwy Państw.

Plebiscyt na Górnym Śląsku wygrali Niemcy, którzy..... określali jako „kraj sezonowy”. Za przyłączeniem do głosowało około 700 tys. ludzi, a za przyłączeniem do niecałe 500 tyś. W tej sytuacji popierane przez dyplomację i zażądały całego obszaru Górnego Śląska. natomiast popierana przez dążyła do podziału Śląska na podstawie wyników plebiscytu.

Pytanie 12 (2pkt)

Do podanych portretów przyporządkuj odpowiednie imię i nazwisko postaci związanych z powstaniami śląskimi.

			Alfons Zgrzebniok Józef Rymer Wojciech Korfanty
A)	B)	C)	

Pytanie 13 (2pkt)

Spośród wymienionych miast Śląskich podkreśl (4) te, które pozostały po stronie polskiej po ostatecznym ustaleniu granicy.

Pszczyna Olesno Rybnik Katowice Bytom Lubliniec Gliwice Racibórz

Pytanie 14 (2pkt)

Rozstrzygnij które zdania są prawdziwe, a które fałszywe. W tabeli obok każdego wpisz odpowiednio: P (prawda), F (fałsz).

A) Akcja „Mosty” miała na celu wysadzić w powietrze mosty na Nysie.	
B) Plebiscyt przyznał stronie polskiej większą część Śląska.	
C) II powstanie śląskie odbyło się w sierpniu.	
D) Bitwa o Górę Św. Anny była bitwą wygraną przez Polaków.	

Pytanie 15 (2pkt)

Uzupełnij tekst:

W roku podpisano w konwencję w sprawie Śląska. Według ustaleń obszar przyznany Polsce powiększony został do około 1/3 spornego terytorium. Konwencja i podział pod względem gospodarczym była korzystna dla
Jeśli chodzi o istniejące na nim obiekty przemysłowe. Polsce przypadło % hutnictwa i 76%