



**V EDYCJA KONKURSU OGÓLNOPOLSKIEGO
Z „WIEDZY OGÓLNEJ”**
skierowanego do uczniów klasy 2 szkoły podstawowej
dnia 25 marca 2019r.
czas pracy 60 minut



Ilość punktów do zdobycia: maksymalnie 25. Powodzenia!

W pytaniach 1 - 5 zaznacz jedną prawidłową odpowiedź:

Pytanie 1 (1pkt) Jaka będzie pogoda w Polsce?

- A) W całym kraju będą temperatury ujemne.
- B) Prognozuje się przelotne opady.
- C) Należy spodziewać się bezchmurnego nieba.
- D) Uwaga na silne porywy wiatru



Pytanie 2 (1pkt) Iloczyn to wynik?

- A) dodawania
- B) odejmowania
- C) mnożenia
- D) dzielenia

Pytanie 3 (1pkt) Podchody, klasy, w chowanego czy zbijak to nazwy:

- A) figur gimnastycznych
- B) zabaw
- C) potraw
- D) tańców

Pytanie 4 (1pkt) Ile kół znajduje się na fladze olimpijskiej?

- A) 3
- B) 5
- C) 7
- D) 13

Pytanie 5 (1pkt) Prąd wytwarzany jest w:

- A) oczyszczalni ścieków
- B) stacji uzdatniania wody
- C) stacji ratownictwa medycznego
- D) elektrowni

Pytanie 6 (2pkt)

Rysunkom przedstawiającym części ciała człowieka przypisz zmysły:

węch

smak

wzrok

słuch



.....

.....

.....


.....

Pytanie 7 (2pkt) Ala ma 8 lat. Jej brat Marcin jest od niej o 4 lata starszy. Ich siostra Zuzia jest o 6 lat młodsza od Marcina. Ile lat ma rodzeństwo Ali?

Pytanie 8 (2pkt) Napisz poprawnie 4 słowa, tak aby każde z nich zawierało literę „ó”, „sz”, „rz”, „ż”.

Pytanie 9 (2pkt) Dopasuj przedmioty do dyscyplin sportowych. Pod każdym z rysunków wpisz odpowiednią literę:

A - narciarstwo



.....

B – kolarstwo



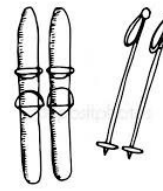
.....

C – tenis



.....

D - golf



.....

Pytanie 10 (2pkt) Ile trwają?

- A) 1 godzina to minut
C) 1 dzień to godzin

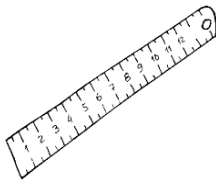
- B) 1 tydzień to dni
D) 1 rok to dni

Pytanie 11 (2pkt) Połącz nazwy zawodów z ich opisem.

- | | |
|-------------|-------------------------------|
| A) szewc | 1) wykuwa przedmioty w metalu |
| B) zdun | 2) szyje i naprawia buty |
| C) kowal | 3) szyje i naprawia ubrania |
| D) krawcowa | 4) buduje i naprawia piece |

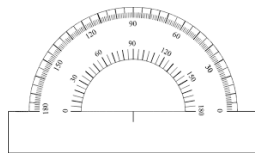
Pytanie 12 (2pkt) Pod każdym z rysunków wpisz literkę określającą nazwę przyrządów.

A – ekierka



.....

B – linijka



.....

C – cyrkiel



.....

D - kątomierz



.....

Pytanie 13 (2pkt) Która grupa zawiera tylko czasowniki?

- A) mały, czerwony, radosny
B) malował, biegał, śmieje się
C) stół, rower, koleżanka
D) dlaczego, sześć, wczoraj

Pytanie 14 (2pkt) Jak zgodnie z zasadami savoir - vivre powinny być ułożone sztućce i talerz w trakcie posiłku? (patrzac kolejno od strony lewej do prawej).

A)	talerz	-	widelec	-	nóż	-	łyżka
B)	łyżka	-	talerz	-	widelec	-	nóż
C)	widelec	-	talerz	-	nóż	-	łyżka
D)	widelec	-	nóż	-	talerz	-	łyżka

Pytanie 15 (2pkt) W autobusie jechało 49 pasażerów. Na przystanku wysiadło 18 pasażerów, a wsiadło 13. Ile osób jest teraz w autobusie?