



**V EDYCJA KONKURSU OGÓLNOPOLSKIEGO
Z „WIEDZY OGÓLNEJ”**
skierowanego do uczniów klasy 3 szkoły podstawowej
dnia 25 marca 2019r.
czas pracy 60 minut



Ilość punktów do zdobycia: maksymalnie 25. Powodzenia!

W pytaniach 1 - 5 zaznacz jedną prawidłową odpowiedź.

Pytanie 1 (1pkt) Ile trwa obrót Ziemi wokół Słońca?

- A) 24 godziny B) 28 dni C) 1 kwartał D) 365 dni

Pytanie 2 (1pkt) Figurą geometryczną, która ma trzy boki i trzy kąty jest:

- A) koło B) kwadrat C) trójkąt D) prostokąt

Pytanie 3 (1pkt) Kiedy w kalendarzu przypada Prima Aprilis?

- A) 1 marca B) 1 kwietnia C) 1 maja D) 1 czerwca

Pytanie 4 (1pkt) Jakim językiem posługuje się największa liczba ludności na świecie?

- A) hiszpańskim B) chińskim C) niemieckim D) angielskim

Pytanie 5 (1pkt) Ile planet znajduje się w Układzie Słonecznym?

- A) 8 B) 7 C) 6 D) 5

Pytanie 6 (2pkt) Uporządkuj (numerami od 1 do 4) gatunki muzyczne w kolejności od najstarszego do najmłodszego:

jazz	hip-hop	poważna	rock
...

Pytanie 7 (2pkt) Podane słowa napisz w liczbie mnogiej:

- A) drzwi -
B) człowiek -
C) dzień -
D) ręka -

Pytanie 8 (2pkt) Ile dni ma każdy miesiąc?

1) styczeń:	a) 28	b) 29	c) 30	d) 31
2) luty:	a) 28	b) 29	c) 30	d) 31
3) marzec:	a) 28	b) 29	c) 30	d) 31
4) kwiecień:	a) 28	b) 29	c) 30	d) 31

Pytanie 9 (2pkt) Zgodnie z zasadami prawidłowej segregacji śmieci należy wrzucać do odpowiednio oznaczonych pojemników. Połącz kolory pojemników z odpowiednimi odpadami.

- A) żółty 1) plastik
B) zielony 2) papier
C) niebieski 3) zmieszane
D) brązowy 4) organiczne np. obierki z ziemniaka
E) szary 5) szkło

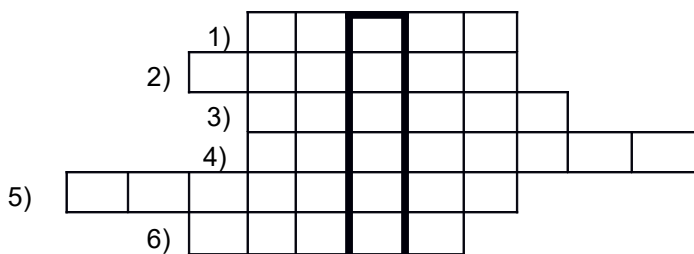
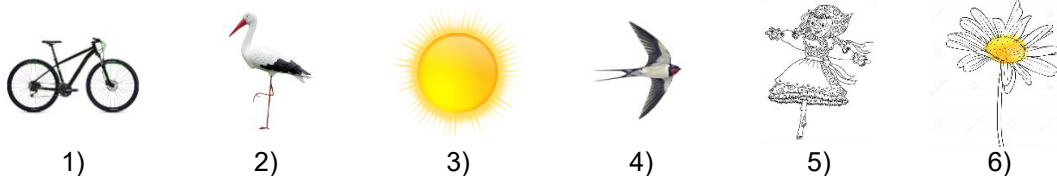
Pytanie 10 (2pkt) Zaznacz czy zdanie jest prawdziwe czy fałszywe.

- | | |
|---|------------------|
| A) Bursztyń powstaje z żywicy drzewa iglastego. | - Prawda / Fałsz |
| B) Dwie ćwiartki jabłka to całe jabłko. | - Prawda / Fałsz |
| C) Sygnał SOS oznacza wezwanie o pomoc. | - Prawda / Fałsz |
| D) W Polsce obowiązuje ruch prawostronny. | - Prawda / Fałsz |

Pytanie 11 (2pkt) Połącz linią cechy ludzkiego charakteru z nazwą zwierząt, którym są one przypisywane.

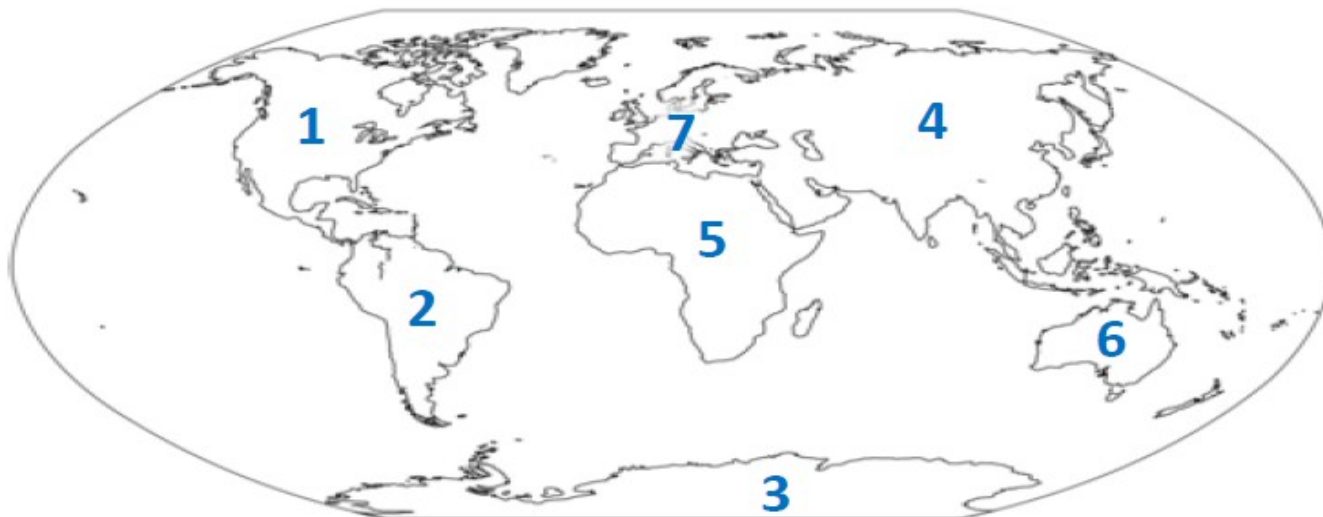
- | | |
|-----------------------|-------------|
| A) Pracowity jak..... | 1) kameleon |
| B) Uparty jak.... | 2) osioł |
| C) Wierny jak.... | 3) pies |
| D) Zmienny jak... | 4) lis |
| E) Chytry jak... | 5) mrówka |

Pytanie 12 (2pkt) Jakie hasło powstanie w krzyżówce po wpisaniu nazw przedstawionych na rysunkach?



Pytanie 13 (2pkt) Dwóch ojców i dwóch synów podzieliło się trzema jabłkami i każdy dostał po jednym całym jabłku. Jak to możliwe?

Pytanie 14 (2pkt) Dopasuj numer oznaczony na każdym z kontynentów do jego nazwy.



Antarktyda	Afryka	Ameryka Północna	Ameryka Południowa	Europa	Australia	Azja
...

Pytanie 15 (2pkt) Ania zjadła 6 cukierków, a Natalia zjadła ich trzy razy więcej niż Wiktoria, która zjadła ich cztery razy mniej niż Ola, która zjadła ich dwa razy więcej niż Ania. Ile cukierków zjadło każde z dzieci?