



II EDYCJA KONKURSU OGÓLNOPOLSKIEGO

Z „WIEDZY OGÓLNEJ”

skierowanego do uczniów klasy 1 szkoły podstawowej

dnia 13 listopada 2017r.

czas pracy 60 minut

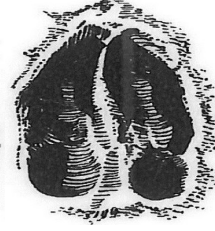

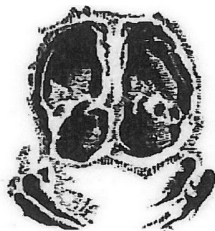


Ilość punktów do zdobycia: maksymalnie 25. Powodzenia!

W pytaniach 1 - 5 zaznacz jedną prawidłową odpowiedź:

Pytanie 1 (1pkt) Jakich zwierząt to ślady?


- A) dzika, psa, lisa, sarny
- B) kota, dzika, sarny, psa
- C) wilka, jelenia, psa, sarny
- D) lisa, niedźwiedzia, psa, wilka




Pytanie 2 (1pkt) Uzupełnij zdanie: „..... nie rozpuszcza się w wodzie.”

- A) olej
- B) cukier
- C) sól
- D) oliwa

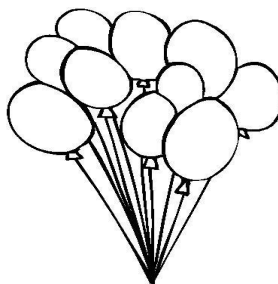
Pytanie 3 (1pkt) W którym wyrazie znajduje się litera „ń”?



A)



B)



C)



D)

Pytanie 4 (1pkt) Jaki kolor powstanie po wymieszananiu farby niebieskiej i żółtej?

- A) zielony
- B) fioletowy
- C) pomarańczowy
- D) brązowy

Pytanie 5 (1pkt) Co możemy zaobserwować na niebie, gdy świeci słońce i pada deszcz?

- A) błyski
- B) tęczę
- C) mgłę
- D) zorzę

Pytanie 6 (2 pkt) Oblicz i zaznacz prawidłowy wynik.

10 + 6 = ... A) 12 B) 16 C) 14

12 - ... = 8 A) 1 B) 3 C) 4

... - 3 = 7 A) 12 B) 10 C) 14





17 - 4 = ... A) 13 B) 11 C) 12

Pytanie 7 (2 pkt) Która część ciała człowieka nie ma pary?

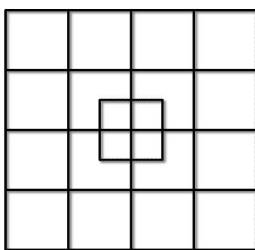
Pytanie 8 (2 pkt) Połącz nazwę podanych miesięcy z zapisem rzymskim i porą roku.

GRUDZIEŃ	X	LATO
MAJ	V	JESIEŃ
SIERPIEŃ	VIII	WIOSNA
PAŹDZIERNIK	XII	ZIMA

Pytanie 9 (2 pkt) Który pojazd porusza się bez paliwa i bez prądu?



Pytanie 10 (2 pkt) Ile kwadratów jest na rysunku?



Pytanie 11 (2 pkt) Wenus była w mitologii rzymskiej boginią miłości. Co jeszcze nosi tę nazwę?

Pytanie 12 (2 pkt) Dokończ zdania:

- A) Najdłuższą rzeką Polski jest
- B) Drobnny deszczyk to inaczej
- C) Przebiśniegi zwiastują nadejście
- D) Czterolistna kończynka symbolizuje
- E) Ciasto na wielkanocnym stole lub hymn Polski to

Pytanie 13 (2 pkt) Podkreśl wyrazy, które nie mają liczby pojedynczej.

DRZWI

LODY

SPODNIE

SKARPETKI

NOŻYCZKI

CHUSTECZKI

Pytanie 14 (2 pkt) Z czego robi się mąkę?

Pytanie 15 (2 pkt) Znajdź 5 różnic między rysunkami. Zaznacz je dowolnym kolorem.

