



II EDYCJA KONKURSU OGÓLNOPOLSKIEGO Z „WIEDZY OGÓLNEJ”

skierowanego do uczniów klasy 3 szkoły podstawowej

dnia 13 listopada 2017r.

czas pracy 60 minut



Ilość punktów do zdobycia: maksymalnie 25. Powodzenia!

W pytaniach 1 - 5 zaznacz jedną prawidłową odpowiedź:

Pytanie 1 (1pkt) Sęk można znaleźć w:

- A) cieście B) drewnie C) korze drzew D) chlebie

Pytanie 2 (1pkt) Telefoniczny numer alarmowy do wszystkich służb ratunkowych to:

- A) 110 B) 111 C) 112 D) 113

Pytanie 3 (1pkt) Gdzie nie znajdziesz pilota?

- A) w samochodzie rajdowym B) przy telewizorze C) w szybowcu D) w skrzynce komputera


Pytanie 4 (1pkt) Kto mieszka w Indiach?

- A) Indyjczycy B) Indianie C) Hindusi D) Inkowie

Pytanie 5 (1pkt) Pleśniak biały to gatunek:

- A) mchów B) bakterii C) grzybów D) porostów

Pytanie 6 (2 pkt) Rozwiąż rebus.



Pytanie 7 (2 pkt) Kto używa w swojej pracy stetoskopu?

Pytanie 8 (2 pkt) W kolumnach zapisano nazwy różnych zwierząt: RYBY, GADY, PTAKI i SSAKI. W której grupie popełniono błąd?

RYBY

rekin
pstrąg
tuńczyk
delfin

GADY

pterodaktyl
krokodyl
wąż
żółw

PTAKI

kura
łabędź
pingwin
kawka

SSAKI

szczur
kot
krowa
wieloryb

Pytanie 9 (2 pkt) Dokończ zdania:

- A) Morza i oceany na mapie są zaznaczone kolorem
- B) Kwadrans to minut.
- C) Kawę robi się z ziaren
- D) Meteoryt to skała pochodząca z
- E) Papirus wynaleźli

Pytanie 10 (2 pkt) Jakie miejsca oznaczają znaki drogowe?



A)

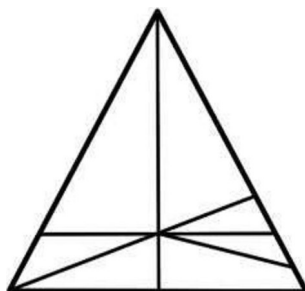


B)

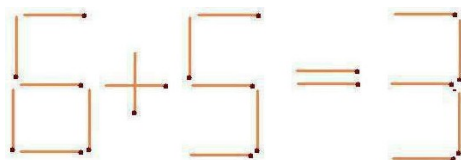


C)

Pytanie 11 (2 pkt) Ile jest trójkątów?



Pytanie 12 (2 pkt) Należy przełożyć jedną zapałkę tak, aby równanie było prawdziwe. Napisz to równanie.



Pytanie 13 (2 pkt) Podkreśl tylko te słowa, które kojarzą Ci się ze słowem savoir - vivre.

DOBRE MANIERY

MODA

SZTUKA

WYCHOWANIE

KŁÓTNIA

KULTURA

Pytanie 14 (2 pkt) Aby otrzymać 3/4 bochenka chleba, trzeba podzielić go na 2? 3? 4? równe części i wziąć 2? 3? 4? z nich.

Pytanie 15 (2 pkt) Otocz pętlą owoc, który nie rośnie na gałęzi.

